



BRIGHTLANDS GIRLS SR. SEC. SCHOOL, JAIPUR

ASSIGNMENT -VII

CLASS –I

SUBJECT: ENGLISH

Community Helpers- Community helpers are people who live and work in our communities. They do many different things to help us every day. They provide us with goods and services. Some examples of community helpers are: doctor, nurse, chef, baker, teacher, dentists, plumbers, firefighters, policemen, farmer etc.

Q.1 Fill in the blanks with the help of given words-

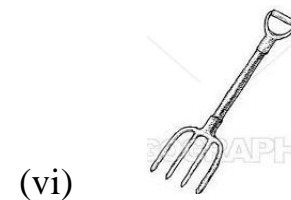

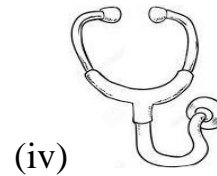
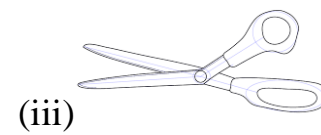
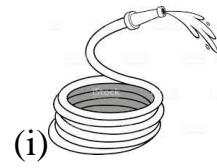

Farmer, doctor, dentist, teacher, barber, policeman

- (a) The doctor gives us medicines. (EXAMPLE)
- (b) The _____ grows crops for us.
- (c) The _____ catches thieves.
- (d) A _____ helps to keep your teeth clean.
- (e) A _____ helps you to learn new things in school.
- (f) The _____ cuts our hair.

Q.2 Where do I work? Fill in the answers.

- (a) I am a fire fighter. I work in a fire station.(EXAMPLE)
- (b) I am a mail carrier. I work in a _____.
- (c) I am a doctor. I work in a _____.
- (d) I am a teacher. I work in a _____.
- (e) I am a police officer. I work in a _____.

Q.3. Match each community helper with the right tool to do his or her job-



Q.4. PROJECT:-Write down names of any five neighborhood places and draw pictures of any two.



BRIGHTLANDS GIRLS SR. SEC. SCHOOL, JAIPUR
ASSIGNMENT -VII
CLASS –I

SUBJECT: HINDI

प्र 1 अपठित गद्यांश को पढ़कर निम्न प्रश्नों के उत्तर लिखिए -

मदन और कमल एक साथ पाठशाला जाते थे। मदन के पास लाल रंग की साइकिल थी, कमल के पास नीले रंग की साइकिल थी। शाम को मदन और कमल अपनी-अपनी दादीजी के साथ बाग में साइकिल चलाने जाते थे। बाग में एक तालाब भी था, जिसमें बहुत सारी मछलियां थीं। अचानक बाग में एक बकरी भागती हुई आई। शायद वह रास्ता भूल गई थी। दादीजी ने किसी तरह बाग से बहार निकाला।

- 1) मदन और कमल कहाँ जाते थे?
- 2) तालाब में क्या थीं?
- 3) बकरी भागती हुई कहाँ आई?
- 4) दिए गए गद्यांश में से ि और ी की मात्रा के दो-दो शब्द लिखो।
- 5) वचन बदलो -

मछली _____ बकरियाँ _____ बागों _____

- 6) लिंग बदलो -

दादाजी _____ बकरा _____

प्र 2 नीचे लिखे शब्दों में से व्यक्ति वस्तु और स्थान के नाम को
अलग-अलग करो-

[राहुल , चावल , दिल्ली, दीपिका , पंखा , जयपुर , मोहन , दूध , अजमेर ,
केला]

प्र 3 आ (ा), इ(ि) , ई (ी) की मात्रा के (कोई) चार-चार शब्द
लिखो।

प्र 4 नीचे लिखे वाक्यों में से क्रिया शब्द को अलग करके लिखो -

- 1) मैं किताब पढ़ता हूँ। _____
- 2) बच्चा रो रहा है। _____
- 3) वे गाना गा रहे हैं। _____
- 4) दादाजी अखबार पढ़ते हैं। _____
- 5) हम सब पाठशाला जा रहे हैं। _____

प्र 5 लिंग बदलो -

लड़का _____ नाना _____ शेर _____ मोरनी _____
घोड़ी _____ औरत _____ बेटी _____ मुरगा _____
चुहिया _____ बंदरिया _____

प्र 6 खाली जगह को लिंग बदल कर भरो -

बैल और _____ घास खा रहे हैं।

छात्र और _____ पढ़ रहे हैं।

प्र 7 नीचे लिखे शब्दों से वाक्य बनाओ-

1 पेड़ , 2 बादल, 3 कबूतर , 4 मंदिर , 5 घर

जैसे - गुड़िया --- गुड़िया सुंदर हैं।

प्र 8 शब्दों की सहायता से वाक्य पुरे करो -

[पालतू , चार पैर, दो सिंग, दो आँख , एक लंबी पूँछ , घास , दूध]

1) गाय एक _____ जानवर हैं।

2) गाय के _____ और _____ होती है।

3) गाय के _____ होते हैं।

4) गाय _____ खाती है।

5) गाय की _____ होती है।

प्र 9 बच्चों अ से औ तक जितने वर्ण है उन्हें लिखो और उन वर्णों

से एक-एक शब्द बनाकर अलग - अलग गोले में लिखकर रंग भरो।

जैसे - अ --->अनार ---> (अनार)

प्र 10 सड़क पर चलने वाले कोई चार वाहनों के नाम लिखो और

किसी एक पर तीन वाक्य बनाओ।

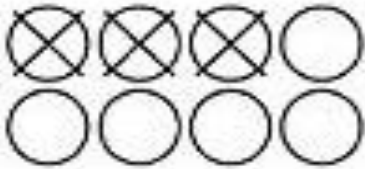


BRIGHTLANDS GIRLS SR. SEC. SCHOOL, JAIPUR
ASSIGNMENT -VII
CLASS -I

SUBJECT: MATHS

Q 1. Subtract according to the given picture:-

(a)



$$8 - 3 = \underline{\quad}$$

(b)



$$9 - 6 = \underline{\quad}$$

(c)



$$6 - 2 = \underline{\quad}$$

(d)



$$7 - 1 = \underline{\quad}$$

(e)



$$5 - 3 = \underline{\quad}$$

(f)



$$8 - 7 = \underline{\quad}$$

Q 2. Subtract the numbers and write down the correct answer : -

(a) $5 - 4 = \underline{\quad}$

(b) $8 - 6 = \underline{\quad}$

(c) $3 - 0 = \underline{\quad}$

(d) $9 - 5 = \underline{\quad}$

(e) $6 - 6 = \underline{\quad}$

(f) $7 - 4 = \underline{\quad}$

(g) $7 - 2 = \underline{\quad}$

(h) $9 - 3 = \underline{\quad}$

Q 3. Subtract the one digit numbers:-

$$\begin{array}{r} \text{(a)} \quad 2 \\ - 1 \\ \hline \\ \hline \end{array}$$

$$\begin{array}{r} \text{(b)} \quad 4 \\ - 0 \\ \hline \\ \hline \end{array}$$

$$\begin{array}{r} \text{(c)} \quad 1 \\ - 1 \\ \hline \\ \hline \end{array}$$

$$\begin{array}{r} \text{(d)} \quad 3 \\ - 2 \\ \hline \\ \hline \end{array}$$

$$\begin{array}{r} \text{(e)} \quad 5 \\ - 3 \\ \hline \\ \hline \end{array}$$

$$\begin{array}{r} \text{(f)} \quad 8 \\ - 4 \\ \hline \\ \hline \end{array}$$

$$\begin{array}{r} \text{(g)} \quad 6 \\ - 5 \\ \hline \\ \hline \end{array}$$

$$\begin{array}{r} \text{(h)} \quad 9 \\ - 2 \\ \hline \\ \hline \end{array}$$

$$\begin{array}{r} \text{(i)} \quad 7 \\ - 6 \\ \hline \\ \hline \end{array}$$

$$\begin{array}{r} \text{(j)} \quad 9 \\ - 5 \\ \hline \\ \hline \end{array}$$

$$\begin{array}{r} \text{(k)} \quad 8 \\ - 6 \\ \hline \\ \hline \end{array}$$

$$\begin{array}{r} \text{(l)} \quad 6 \\ - 3 \\ \hline \\ \hline \end{array}$$

Q4. Subtract two digit numbers :-

$$\begin{array}{r} 1) \quad 37 \\ - 12 \\ \hline \\ \hline \end{array}$$

$$\begin{array}{r} 2) \quad 51 \\ - 10 \\ \hline \\ \hline \end{array}$$

$$\begin{array}{r} 3) \quad 42 \\ - 20 \\ \hline \\ \hline \end{array}$$

$$\begin{array}{r} 4) \quad 25 \\ - 13 \\ \hline \\ \hline \end{array}$$

$$\begin{array}{r} 5) \quad 33 \\ - 21 \\ \hline \\ \hline \end{array}$$

$$\begin{array}{r} 6) \quad 43 \\ - 22 \\ \hline \\ \hline \end{array}$$

$$\begin{array}{r} 7) \quad 25 \\ - 12 \\ \hline \\ \hline \end{array}$$

$$\begin{array}{r} 8) \quad 26 \\ - 21 \\ \hline \\ \hline \end{array}$$

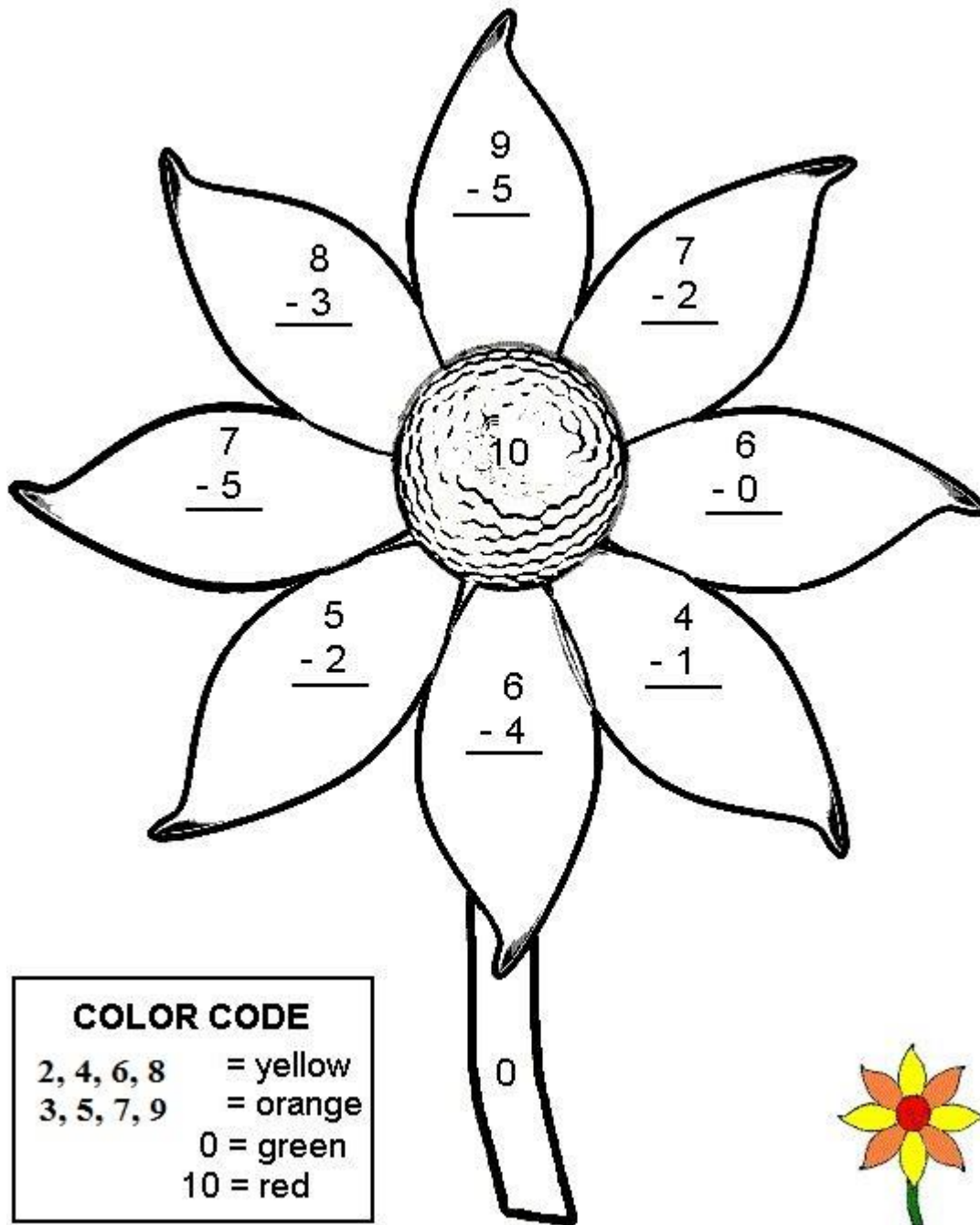
$$\begin{array}{r} 9) \quad 42 \\ - 11 \\ \hline \\ \hline \end{array}$$

$$\begin{array}{r} 10) \quad 44 \\ - 23 \\ \hline \\ \hline \end{array}$$

$$\begin{array}{r} 11) \quad 34 \\ - 23 \\ \hline \\ \hline \end{array}$$

$$\begin{array}{r} 12) \quad 53 \\ - 33 \\ \hline \\ \hline \end{array}$$

Q 5. **PROJECT**:-Color the Flower according to the color code given in the box.











BRIGHTLANDS GIRLS SR. SEC. SCHOOL, JAIPUR
ASSIGNMENT -VII
CLASS -I



SUBJECT: EVS


Q.1 Fill in the blanks with correct word from the box. One is done for you.

shoe, slippers, skirt, pant, coat, high heel, shorts, boots, top, **jeans**, socks, t-shirt, belt, shirt, gown, cap

At the moment I am wearing my favourite clothes  **jeans** a blue 
_____,  _____ and pair of  _____. And a 
_____, of course! I also like wearing  _____.

I have got a sister. Her name is Alice and she also likes fashionable clothes.



Today she wearing pink  _____ and a  _____. In

summer she likes wearing  _____ and in winter she loves

wearing  _____. My parents are very formal. My father usually

wears  _____, a yellow  _____, a  _____



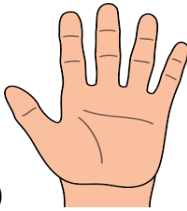

and a  _____. He never forgets his  _____. My mother

prefers wearing a  _____ and  _____. We are a very fashionable family.

Q.2. Look at yourself and count the body parts you have. Tick the correct column for each body parts.

	ONE	TWO	TEN
Head			
Fingers			
Eyes			
Nose			
Ears			
Legs			
Hands			

Q.3. Identify the body parts and tick the correct answer.

(a)  (b)  (c)  (d) 

Nose/Neck Finger/Face Hand/Teeth Ear/Lips

PROJECT WORK

Q.4. Write down the names of any five animals and draw or paste the picture and write the names of their home.

For example:

Paste picture

or Draw picture

Dog



Kennel